

Nume _____
Clasa _____ Data _____
Unitatea de învățământ _____

Calificativ

Evaluare inițială Test 2


- 1 Încercuiește: - cu **galben** pasărea aflată **deasupra** unuia dintre copaci
- cu **albastru** ciupercuțele aflate **sub** unul dintre copaci
- cu **roșu** copacul din **stânga** celui în care este scorbura veveriței
- cu **verde** copacul din **dreapta** celui în care este scorbura veveriței.
Desenează: - **deasupra** copacilor tot atâția norișori câte conuri are bradul.



- 2 Numerotează florile din care albinuța va aduna polen și notează pe fiecare numărul potrivit, începând cu 8. Încercuiește cu **roșu** trei flori pe care sunt scrise **numere pare** și cu **albastru** trei flori pe care sunt scrise **numere impare**.



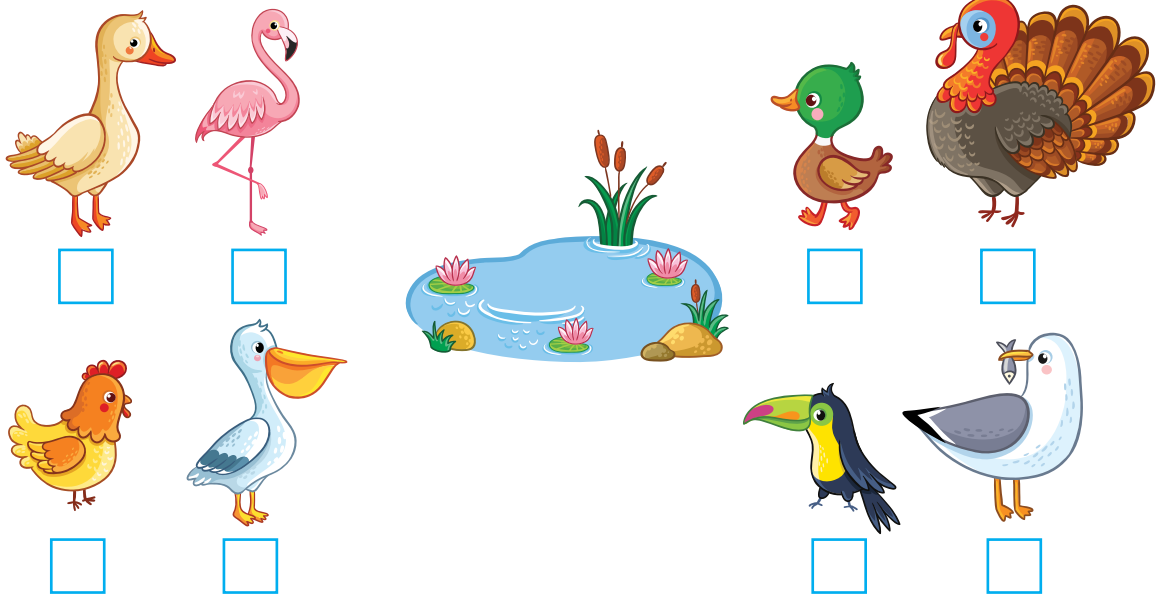
- 3 Încercuiește animalele domestice.



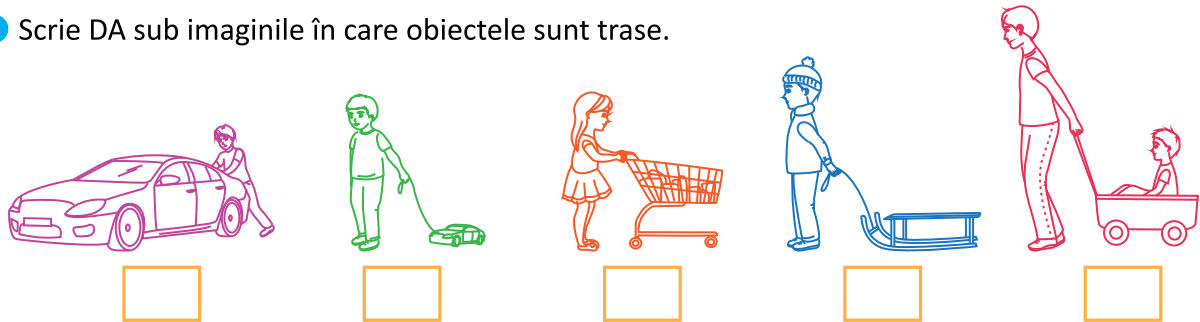
4 Ajută fetița să scrie pe turnuri vecinii numerelor de pe fiecare castel.




5 Care dintre păsări pot pluti pe apă? Bifează.



6 Scrie DA sub imaginile în care obiectele sunt trase.



7 Colorează inimioara de lângă fiecare personaj care a rezolvat corect operațiile. Rezolvă folosind numărătoarea sau bețișoarele.



$12 - 3 = 9$

$7 + 7 = 12$

$3 + 6 = 9$

$15 - 4 = 10$